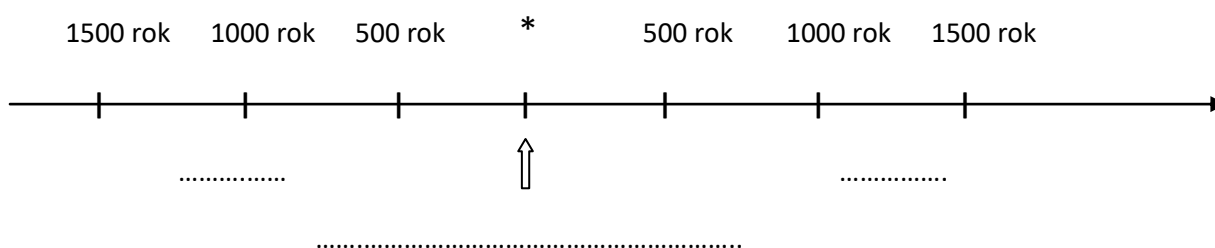


**1. Wstaw cyfrę 1 w kratkę obok wydarzenia, które zaszło najwcześniej, a cyfrę 4 – obok tego, które zdarzyło się najpóźniej.**

- ☐ Koronacja Karola Wielkiego na cesarza w 800 roku.
- ☐ Pierwsze igrzyska w Olimpii w 776 roku p.n.e.
- ☐ Bitwa pod Maratonem w 490 roku p.n.e.
- ☐ Chrzest Polski w 966 roku.


**2. Przyjrzyj się zamieszczonej osi czasu. Następnie wykonaj polecenia.**



- a) Zamaluj zielonym kolorem część osi odpowiadającą czasom przed naszą erą.
- b) Zaznacz niebieskim kolorem część osi odpowiadającą czasom naszej ery.
- c) Gwiazdką oznaczono wydarzenie, które podzieliło dzieje na okres przed naszą erą i czasy naszej ery. Napisz w wyznaczonym miejscu, jakie to było wydarzenie.

**3. Rozwiąż krzyżówkę. Następnie napisz, co oznacza otrzymane hasło.**

- 1. Okres obejmujący sto lat.
- 2. Przyrząd do mierzenia czasu, w którym przesypuje się piasek.
- 3. Nauka zajmująca się mierzeniem czasu.
- 4. Najmniejsza jednostka czasu zegarowego.
- 5. Spis dni całego roku z podziałem na tygodnie i miesiące.




Hasło: \_\_\_\_\_ - \_\_\_\_\_

#### 4. Połącz terminy z odpowiednimi wyjaśnieniami

- |             |   |  |
|-------------|---|--|
| chronologia | • | • sto lat  |
| era         | • | • dłuższy okres zapoczątkowany ważnym wydarzeniem            |
| wiek        | • | • dziesięć wieków  |
| tysiąclecie | • | • nauka zajmująca się mierzeniem czasu                       |
|             |   | • linia przedstawiająca w odpowiedniej kolejności wydarzenia |

#### 5. Przyjrzyj się zamieszczonym fotografią i wykonaj polecenia.



.....

- a) Podaj w miejscach pod obrazkami nazwy przyrządów do mierzenia czasu.
- b) Zakreśl obwódką obrazki urządzeń używanych dawniej.
- c) Napisz, Który z przedstawionych przyrządów jest najdokładniejszy. Uzasadnij swoją odpowiedź.

.....

.....

.....

.....